

ΣΤ' ΤΑΞΗ

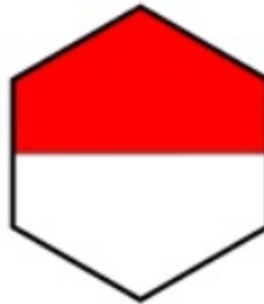
19. Τι πλάσμα είναι αυτό το... κλάσμα;
(Κλάσματα ομώνυμα και ετερόνυμα)

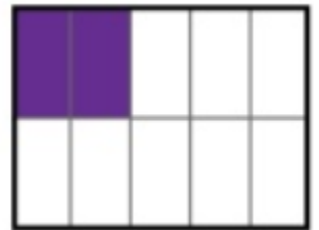
Όνομα:

1. Ποιο κλάσμα εκφράζει το χρωματισμένο μέρος των σχημάτων;

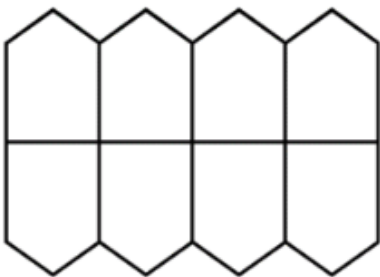








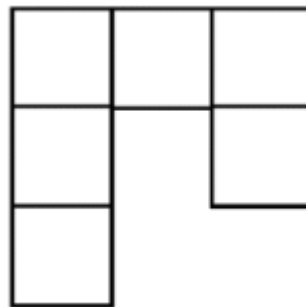
2. Χρωματίστε το μέρος που εκφράζει το κλάσμα κάτω από κάθε σχήμα.




$\frac{1}{4}$



$\frac{2}{3}$



$\frac{1}{2}$



$\frac{4}{7}$

3. Λύστε τις παρακάτω πράξεις κλασμάτων.

$$\frac{1}{9} + \frac{5}{9} = \dots\dots\dots$$

$$2\frac{3}{4} + \frac{7}{3} = \dots\dots\dots$$

$$\frac{6}{10} - \frac{2}{10} = \dots\dots\dots$$

$$2\frac{6}{7} - 1\frac{1}{4} = \dots\dots\dots$$

$$\frac{7}{10} \times \frac{3}{9} = \dots\dots\dots$$

$$1\frac{6}{8} : \frac{1}{12} = \dots\dots\dots$$

4. Ο Πάρης μάζεψε 160€ στον κουμπαρά του. Αποφάσισε να διαθέσει τα

$\frac{3}{8}$ των χρημάτων του για να βοηθήσει στα έξοδα

των γονιών του και τα $\frac{4}{10}$ για να αγοράσει

καινούρια ρούχα και παπούτσια. Πόσα χρήματα θα διαθέσει σε κάθε περίπτωση και πόσα θα του μείνουν στον κουμπαρά;



ΛΥΣΗ

5. Η οικογενειακή γιατρός του Νίκου και του Μανώλη έκανε

έναν έλεγχο στο βάρος τους. Ο Νίκος ήταν $36\frac{1}{2}$ κιλά και ο

Μανώλης $\frac{175}{5}$ κιλά. Ποιος είναι πιο βαρύτερος;



ΛΥΣΗ